

Реальная версия ЕНТ по математике 2021 года. Вариант 4120

При выполнении заданий с выбором ответа отметьте верные ответы.

Если вариант задан учителем, вы можете вписать или загрузить в систему ответы к заданиям с развернутым ответом. Учитель увидит результаты выполнения заданий с кратким ответом и сможет оценить загруженные ответы к заданиям с развернутым ответом. Выставленные учителем баллы отобразятся в вашей статистике.

1. Упростите выражение: $(0,2\sqrt{11} + 1)(1 - 0,2\sqrt{11})$.

- 1) 0,56 2) 0,78 3) -0,56 4) -0,78 5) 0,44

2. Решить уравнение: $16x^2 - 9 = 0$.

- 1) 4 и -4 2) 3 и -3 3) $\frac{3}{4}$ и $-\frac{3}{4}$ 4) $\frac{9}{16}$ и $-\frac{9}{16}$ 5) 3 и -3

3. Решите систему уравнений:
$$\begin{cases} 4x + \frac{9}{y} = 21, \\ 17 - 3x = \frac{18}{y}. \end{cases}$$

- 1) (14; 5) 2) (0; 18) 3) (5; 9) 4) (-15; -11) 5) (9; 15)

4. Токарь, делая по 54 детали в час, изготовил все детали за 5 часов. За сколько часов токарь изготовит все детали, если будет делать по 15 деталей в час?

- 1) 15 ч 2) 18 ч 3) 9 ч 4) 16 ч 5) 12 ч

5. Найдите область определения функции $y = \sqrt{\log_{\frac{1}{2}}(x+2)}$.

- 1) $(-2; +\infty)$ 2) $(-2; 1]$ 3) $(-2; -1]$ 4) $(-\infty; -1)$ 5) $[-1; +\infty)$

6. Решите систему уравнений:
$$\begin{cases} 3^y \cdot 2^x = 972, \\ y - x = 3. \end{cases}$$

- 1) (3; 1) 2) (4; 3) 3) (2; 5) 4) (2; 4) 5) (3; 4)

7. В арифметической прогрессии найдите a_7 , если $a_1 = -\sqrt{2}$ и $d = 1 + \sqrt{2}$.

- 1) $3\sqrt{2} + 5$ 2) $5\sqrt{2} + 6$ 3) $6\sqrt{2} + 5$ 4) $5\sqrt{2} + 7$ 5) $7\sqrt{2} + 7$

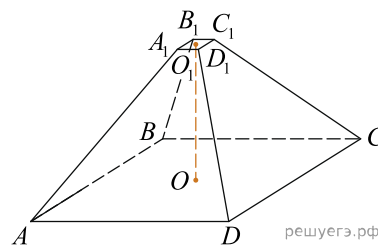
8. Найдите область значений квадратичной функции: $y = -x^2 + 4x - 3$.

- 1) $(-\infty; 1]$ 2) $(-\infty; 1)$ 3) $(-1; 1]$ 4) $[1; +\infty)$ 5) $[-1; 1]$

9. Из круга радиусом 10 вырезали квадрат наибольшего размера. Площадь оставшейся части круга при $\pi = 3,14$ равна

- 1) 212 2) 126 3) 38 4) 145 5) 114

10. Найдите объем правильной четырехугольной усеченной пирамиды, если стороны ее основания 1 см и 9 см, а высота 6 см.



- 1) 162 см³ 2) 182 см³ 3) 152 см³ 4) 180 см³ 5) 175 см³

11. Числовая последовательность задана условиями $x_{n+1} = x_n - 2$, $x_1 = 3$. Какое из указанных чисел равно x_3 ?

- 1) -3 2) 1 3) -2 4) 0 5) -1

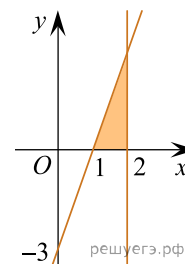
12. Значение переменной x , при котором верно неравенство: $\frac{1}{5} < x < \frac{1}{2}$.

- 1) $\frac{1}{4}$ 2) $\frac{1}{10}$ 3) $\frac{9}{10}$ 4) $\frac{4}{5}$ 5) $\frac{3}{4}$

13. Решите систему неравенств: $\begin{cases} 2\sqrt{x+8} < 4, \\ \sqrt{3-2x} \geq 3 \end{cases}$ и укажите количество целых решений системы неравенств.

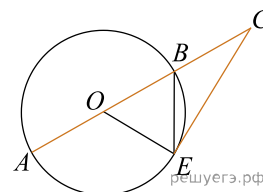
- 1) 2 2) 1 3) 5 4) 3 5) 4

14. Найдите площадь заштрихованной фигуры:



- 1) 4,5 кв. ед. 2) 3 кв. ед. 3) 1,5 кв. ед. 4) 6 кв. ед. 5) 9 кв. ед.

15. К окружности проведена секущая CA . Треугольник BOE равнобедренный, $CA = 12$. Длина касательной CE равна



- 1) $4\sqrt{2}$ 2) $3\sqrt{5}$ 3) 6 4) 4 5) $4\sqrt{3}$

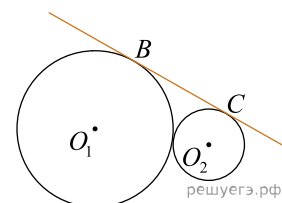
16. Значение частного

$$\frac{a^2 + a - 6}{2a^2 + 5a - 3} \div \frac{3a^2 - 5a - 2}{2a^2 + a - 1}$$

равно

- 1) $\frac{a+1}{3a+1}$ 2) $\frac{3a+1}{a-1}$ 3) $\frac{3a+1}{a+1}$ 4) $\frac{a-1}{3a+1}$ 5) $\frac{a-1}{3a-1}$

17. На рисунке радиусы касающихся окружностей с центрами O_1 и O_2 равны 7 и 3. К окружностям проведена общая касательная BC . Расстояние между точками касания равно:



- 1) $\sqrt{87}$ 2) $6\sqrt{2}$ 3) $5\sqrt{3}$ 4) $2\sqrt{21}$ 5) $3\sqrt{11}$

18. На заводе работают токари и слесари, число которых относится соответственно как $\frac{11}{12} : \frac{1}{2}$. Сколько всего рабочих на заводе, если токарей на 95 больше, чем слесарей?

- 1) 300 2) 325 3) 323 4) 303 5) 312

19. Решите систему неравенств:
$$\begin{cases} 5^{x^2-9} \geq 625^{2x}, \\ \frac{4x+5}{7} - \frac{3x+2}{4} \leq \frac{7-2x}{8}. \end{cases}$$

- 1) $x \in (-\infty; -1] \cup \left[9\frac{1}{4}; +\infty\right)$ 2) $x \in (-\infty; 1] \cup [9; +\infty)$
 3) $x \in (-\infty; -1] \cup \left[9; 6\frac{1}{4}\right]$ 4) $x \in (-\infty; -1] \cup \left[9; 9\frac{1}{4}\right]$
 5) $x \in (-\infty; -1] \cup [9; +\infty)$

20. Двугранный угол равен 60° . Из точки N на его ребре в гранях проведены перпендикулярные ребру отрезки $NB = 8$ см, $AN = 2$ см. Найдите длину AB .

- 1) $6\sqrt{13}$ см 2) $2\sqrt{13}$ см 3) $4\sqrt{13}$ см 4) $3\sqrt{13}$ см 5) $5\sqrt{13}$ см

Строительной компании дали задание построить детскую игровую площадку, в которой должен быть домик в виде башни. Коническая крыша башни имеет диаметр 6 м и высоту 2 м. Для этого купили листы кровельного железа размерами $0,7 \text{ м} \times 1,4 \text{ м}$. На швы и обрезки тратится 10 % от площади крыши.

21. Чему равна площадь одного кровельного листа?

- 1) $1,6 \text{ м}^2$ 2) $0,98 \text{ м}^2$ 3) $0,96 \text{ м}^2$ 4) $9,8 \text{ м}^2$ 5) 98 м^2

22. Чему равна площадь поверхности башни?

- 1) $3\sqrt{11}\pi \text{ м}^2$ 2) $12\pi \text{ м}^2$ 3) $3\sqrt{13}\pi \text{ м}^2$ 4) $3\sqrt{15}\pi \text{ м}^2$ 5) $5\sqrt{13}\pi \text{ м}^2$

23. Сколько нужно использовать материала (кровельного железа) для покрытия крыши с учетом швов и обрезок? (округлите до целых). ($\pi = 3,14$)

- 1) 52 м^2 2) 45 м^2 3) 37 м^2 4) 25 м^2 5) 31 м^2

24. Какое количество листов понадобится для башни?

- 1) 34 2) 30 3) 32 4) 38 5) 40

25. Во сколько раз увеличится объем конуса, если его радиус увеличить в 4 раза, а высоту оставить прежней?

- 1) в 24 раза 2) в 64 раза 3) в 13 раз 4) в 20 раз 5) в 16 раз

26. Найдите значение выражения $\frac{\log_5 \sqrt[5]{14}}{\log_{125} \sqrt{14}}$.

- 1) 2^{-1} 2) 1,5 3) -1,5 4) $\frac{5}{6}$ 5) $-\frac{1}{2}$ 6) 1,2 7) $\frac{2}{3}$ 8) 5^{-1}

27. Корнями уравнения $\frac{\lg(x^2 - 18x + 100) - 2}{\lg(x^2 + 18x + 100)} = 0$ являются?

- 1) -10 2) 10 3) -18 4) 9 5) 18 6) 0 7) 2 8) 1

28. Какому промежутку принадлежит сумма $(x + y)$, где $(x; y)$ — решение системы уравне-

ний:
$$\begin{cases} 5\sqrt{x} + 2\sqrt{y} = 7, \\ 6\sqrt{x} - 5\sqrt{y} = 1. \end{cases}$$

- 1) (4; 7) 2) (0; 3) 3) [-1; 1] 4) (2; 3) 5) [3; 5] 6) (2; 7) 7) [-3; 5] 8) [2; 5]

29. Двое рабочих изготовили 60 деталей за время t . Производительность первого составляет $\frac{2}{3}$ производительности второго. Из ниже приведенных ответов укажите производительность второго рабочего, если известно, что t — целое число.

- 1) 16 деталей в час 2) 22 деталей в час 3) 10 деталей в час 4) 15 деталей в час
5) 20 деталей в час 6) 18 деталей в час 7) 12 деталей в час 8) 9 деталей в час

30. Укажите интервалы, удовлетворяющие неравенству: $x^2 - |x| - 6 > 0$.

- 1) [3; +∞) 2) (-∞; -3] 3) (-∞; +∞) 4) (3; +∞) 5) [-3; 6]
6) (-∞; -3) 7) (-3; 3) 8) [-6; 3]

31. Дана система уравнений

$$\begin{cases} 2^x \cdot 4^y = 32, \\ \log_3(x - y) = \log_3 2, \end{cases}$$

где $(x; y)$ — решение данной системы. Сумма $(x + y)$ принадлежит промежутку?

- 1) (5; 12) 2) (5; 7) 3) (0; 10) 4) (-∞; 2) 5) (-1; 6) 6) (0; 8)
7) (10; 24) 8) (-8; 4)

32. Найдите производную функции: $y = \frac{2x + 1}{x^2}$.

- 1) $\frac{-(2x + 1)}{x^4}$ 2) $\frac{2(x^2 + 1)}{x^4}$ 3) $\frac{-2(x + 2)}{x^4}$ 4) $\frac{-(2x + 1)}{x^4}$ 5) $\frac{-2(x^3) + 1}{x^4}$
6) $\frac{-2x + 1}{x^2}$ 7) $\frac{-(2x + 1)}{x^3}$ 8) $\frac{-2x(x^2 + 1)}{x^3}$

33. Найдите стороны треугольника MKP , если $\angle M = 15^\circ$ и $\angle P = 30^\circ$, а высота $MH = 4$ см.

- 1) $(36 + 36\sqrt{3})$ см 2) 8 см 3) $8\sqrt{2}$ см 4) 12 см 5) 9 см 6) 27 см
7) $(4\sqrt{3} - 4)$ см 8) $4\sqrt{2}$ см

34. Напишите уравнение общей касательной к параболам: $y = x^2 + 4x + 8$ и $x^2 + 8x + 4$.

- 1) $y - x - 2 = 0$ 2) $y = -x - 2$ 3) $y = 8x + 4$ 4) $x + y - 4 = 0$
5) $x + y + 2 = 0$ 6) $y = -x$ 7) $y = -x + 4$ 8) $8x - y + 4 = 0$

35. В прямой правильной шестиугольной призме $ABCDEF A_1 B_1 C_1 D_1 E_1 F_1$ имеем $B_1 D = 8\sqrt{3}$ и $\angle B_1 D B = 45^\circ$. Найдите площадь боковой поверхности и площадь полной поверхности данной призмы.

- 1) $768\sqrt{3}$ 2) $228\sqrt{3}$ 3) $288\sqrt{3}$ 4) $384\sqrt{6}$ 5) $288\sqrt{2}$ 6) $192\sqrt{3}$

$$7) 576\sqrt{6} \quad 8) 384\sqrt{2}$$